

초급

2012년도

제 15회 한국사능력검정시험 문제지

국사편찬위원회

성명

수험 번호

- 자신이 선택한 등급의 문제지인지 확인하시오.
- 문제지에 성명과 수험 번호를 정확히 써넣으시오.
- 답안지에 성명과 수험 번호를 써넣고, 또 수험 번호와 답을 정확히 표시하시오.
- 시험 시간은 60분입니다.

1. 다음 도구를 용도에 알맞게 사용하는 모습으로 가장 적절한 것은? [2점]



①



②



③



④

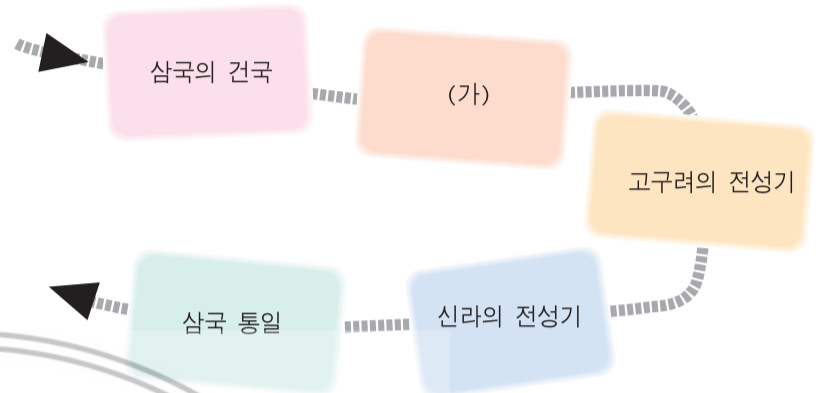


2. 다음 도구를 사용했던 시대에 관한 설명으로 옳은 것은? [2점]



- ① 한반도 남쪽에는 마한, 진한, 변한 등이 생겨났다.
- ② 음식을 저장하기 위하여 빗살무늬 토기를 만들었다.
- ③ 주로 동굴이나 바위 그늘에서 무리지어 생활하였다.
- ④ 지배자의 힘을 보여 주는 고인돌이 제작되기 시작하였다.

3. (가) 시기에 있었던 사실로 옳은 것은? [3점]



- ① 백제는 도읍을 웅진에서 사비로 옮겼다.
- ② 신라는 대가야를 정복하여 영토를 넓혔다.
- ③ 고구려는 남쪽으로 진출하여 한강 유역을 차지하였다.
- ④ 백제는 고구려를 공격하여 황해도 지역 일부를 차지하였다.

4. (가)에 들어갈 지역을 지도에서 옳게 찾은 것은? [3점]

주몽은 하늘 신의 아들인 해모수와 물의 신 하백의 딸 유화 사이에서 태어났다. 그는 알을 깨고 나왔는데 어릴 때부터 활을 잘 쏘아 사람들은 그를 '주몽'이라 불렀다. 주몽은 부여 금와왕의 왕자들과 함께 자랐는데, 그들이 주몽을 시샘하여 죽이려고 하자, 자신을 따르는 무리를 이끌고 남쪽으로 내려와 (가) 지역에 나라를 세웠다.



- ① ㉠
- ② ㉡
- ③ ㉢
- ④ ㉣

5. 다음 문화재를 남긴 국가에 대한 설명으로 옳지 않은 것은? [2점]



석등(상경성 절터)



정효 공주 묘

- ① 한나라의 침입으로 멸망하였다.
- ② 신라와 교류하는 교통로가 있었다.
- ③ 전성기 때는 해동성국이라고 불리었다.
- ④ 온돌을 설치하여 추운 날씨를 이겨냈다.

6. (가)에 들어갈 사진으로 옳은 것은? [2점]

현장 체험 학습 보고서

○학년 ○반 ○○○


- 일 시 : 2011년 ○○월 ○○일
- 장 소 : 경주 일대
- 조사 내용 : 석굴 모양의 사찰로 그 안에는 본존불이 모셔져 있고, 주변에는 많은 조각상들이 새겨져 있다. 당시 신라 석공들의 정교한 기술과 뛰어난 예술성을 엿볼 수 있다.

〈관련 사진〉

(가)



7. 일본의 고대 문화에 영향을 준 문화재로 가장 적절한 것은? [2점]



춘궁리 철조 석가여래 좌상



논산 관촉사 석조 미륵보살 입상



금동 미륵보살 반가사유상



파주 용미리 마애 이불 입상

8. 다음 가상 상장을 받은 사람의 소감으로 적절한 것은? [3점]

제 △△호

공로상

이름 : ○○○

위 사람은 오랜 기간의 노력으로 화약과 화포를 만들어 왜구를 무찌르는 데 크게 기여하였으므로 이에 상장을 드립니다.

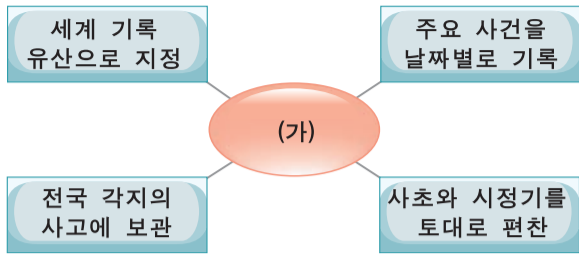
○○○○년 ○○월 ○○일

고려국

- ① 삼별초를 이끌고 적을 무찔러 통쾌했습니다.
- ② 기벌포 전투의 승리에 기여하게 되어서 다행입니다.
- ③ 별무반을 만든 게 이렇게 좋은 결과를 내어 기쁩니다.
- ④ 화통도감에서 함께 일한 분들에게 이 영광을 돌립니다.

9. (가)에 해당하는 책으로 옳은 것은?

[2점]



경국대전



동의보감



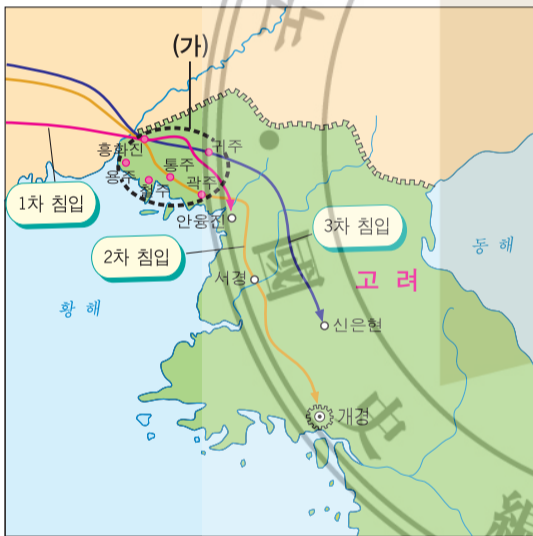
조선왕조실록



직지심체요절

10. (가) 지역에 대한 설명으로 옳은 것은?

[3점]



- ① 윤관이 정벌하여 개척하였다.
- ② 공민왕이 무력으로 되찾았다.
- ③ 서희가 외교 담판으로 획득하였다.
- ④ 태조가 북진 정책으로 회복하였다.

11. 다음에서 설명하고 있는 전투로 옳은 것은?

[2점]

- 당나라의 수십만 대군이 공격해 옴.
- 성주 양만춘이 백성들과 함께 물리침.
- 고구려 서쪽 변경에 있는 중요한 요새에서 일어남.

- ① 귀주 대첩
- ② 살수 대첩
- ③ 매소성 싸움
- ④ 안시성 싸움

12. (가)에 들어갈 기사 제목으로 가장 적절한 것은? [3점]

○○신문
○○○○년 ○○월 ○○일

- 경계면 -

심해지는 귀족들의 사치

송나라로부터 값비싼 비단의 수입이 날로 증가하여 ……

- 사회면 -

(가)

우리 고려에는 이와 같은 풍속이 전국 각지에 퍼져 있어서 ……

- ① 여성은 재산 상속에서 제외
- ② 여성은 제사를 지낼 수 없어
- ③ 사위는 음서 혜택을 받지 못해
- ④ 남자들 사이에 일반화된 처가살이

13. (가)에 들어갈 책 제목으로 적절한 것은?

[2점]

고려 인물

1. 고려의 기틀을 갖추다	2. 문벌 귀족이 권력을 독점하다	3. 몽골의 침략에 맞서다	4. 원의 간섭에서 벗어나다
광종	이자겸	(가)	신돈

- ① 묘청
- ② 김부식
- ③ 김윤후
- ④ 정도전

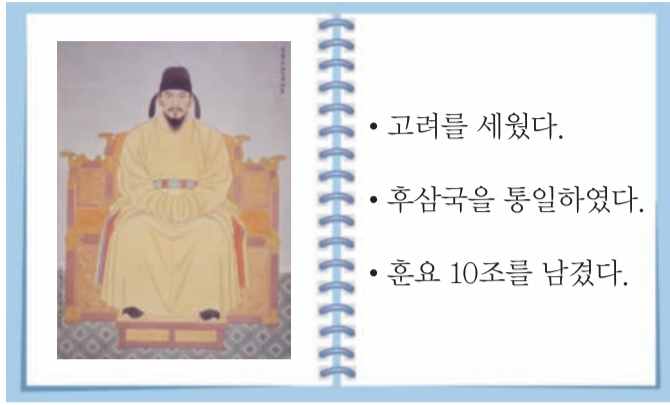
14. 다음 가상 인터뷰의 (가)에 들어갈 말로 옳지 않은 것은?

[3점]



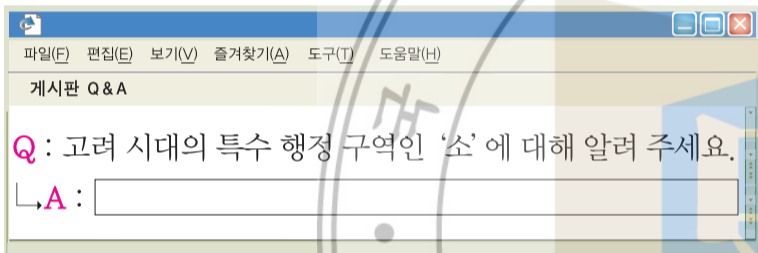
- ① 사람들은 연등회 때 등불을 들고 소원을 빕니다.
- ② 승려들은 과거 시험인 승과에 응시하기도 합니다.
- ③ 백성들은 기와나 종이를 사러 절에 가기도 합니다.
- ④ 학생들은 공부하러 각지에 설립된 서원으로 갑니다.

15. 다음 인물에 대한 설명으로 옳지 않은 것은? [2점]



- ① 완산주에 도움을 정하였다.
- ② 호족을 포용하는 정책을 폈다.
- ③ 고창 전투에서 크게 승리하였다.
- ④ 경순왕으로부터 신라를 넘겨받았다.

16. 다음 게시판의 답변으로 옳은 것만을 <보기>에서 모두 고른 것은? [3점]

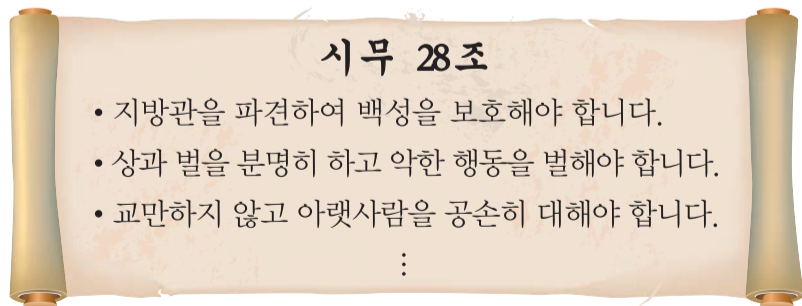


< 보 기 >

- ㄱ. 신성한 지역의 표시로 솟대가 세워져 있었습니다.
- ㄴ. 소의 주민들은 일반 군현민에 비해 차별을 받았습니다.
- ㄷ. 나라에 바칠 수공업품을 만드는 사람들이 살았습니다.

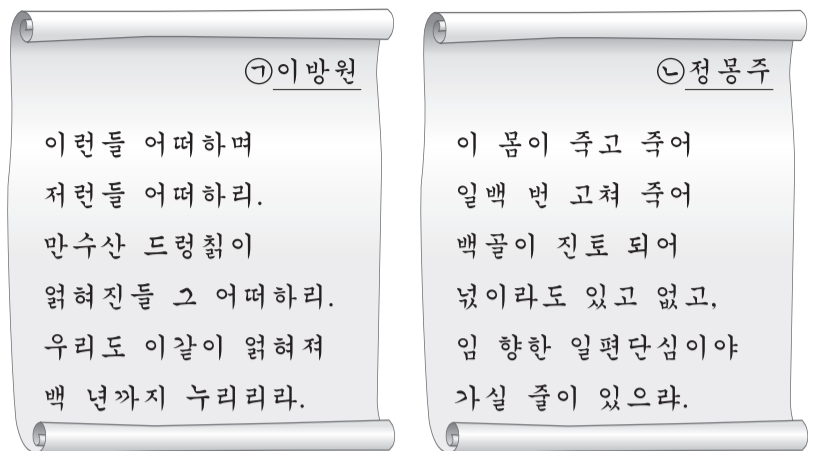
- ① ㄱ, ㄴ
- ② ㄱ, ㄷ
- ③ ㄴ, ㄷ
- ④ ㄱ, ㄴ, ㄷ

17. 다음을 건의한 고려 시대 인물의 주장으로 적절한 것은? [2점]



- ① 노비안검법을 실시해야 한다.
- ② 서경으로 도움을 옮겨야 한다.
- ③ 유교를 정치 이념으로 삼아야 한다.
- ④ 국가가 팔관회를 성대하게 열어야 한다.

18. 밑줄 그은 ㉠, ㉡ 인물에 대한 설명으로 옳은 것은? [3점]



- ① ㉠ - 개성에 있는 선죽교에서 피살되었다.
- ② ㉠ - 호패법을 실시하여 인구 동태를 파악하였다.
- ③ ㉡ - 유교의 정신에 따라 한양을 설계하였다.
- ④ ㉡ - 여진을 몰아내고 4군 6진을 설치하였다.

19. (가)에 들어갈 대답으로 옳은 것은? [3점]



- ① 시부모와 어른들에게 폐백을 드리던 거란다.
- ② 조상이 돌아가신 날에 제사를 지내던 거란다.
- ③ 3년 동안 상복을 입고 부모의 묘소를 지키던 거란다.
- ④ 15세가 넘은 남자에게 상투를 틀고 관을 씌워 주던 거란다.

20. (가)가 발달했던 시기의 문화에 대한 설명으로 옳은 것은? [2점]



- ① 훈민정음이 사용되기 시작하였다.
- ② 서민들 사이에서 민화가 유행하였다.
- ③ 판소리가 다양한 계층에게서 호응을 얻었다.
- ④ 서민들의 생활 모습이 담긴 풍속화가 그려졌다.

21. 다음 자료와 관련된 역사적 사건으로 옳은 것은? [2점]



남한산성



삼전도비

- ① 병자호란 ② 임진왜란
- ③ 요동 정벌 ④ 쓰시마 섬 정벌

22. (가)에 들어갈 작물로 옳은 것은? [3점]

책을 추천합니다.

- 저자 : 김장순
- 서명 : 「감저신보」
- 발행 : 조선 후기
- 내용 : 조선 후기에 들어온 (가)의 재배 방법을 소개한 책으로, 우리나라에서 재배한 경험을 바탕으로 쓰여졌다.

추천자 : ○○○

- ① 고추
- ② 인삼
- ③ 고구마
- ④ 토마토

23. 다음 선거가 실시된 시기를 연표에서 옳게 고른 것은? [3점]

유엔 한국 임시 위원단의 감시 아래 총선거가 실시되었다. 만 21세 이상 성인 남녀의 투표권을 인정한 최초의 보통 선거였다. 이 선거를 통해 제헌 국회 의원이 선출되었다.

(가)	(나)	(다)	(라)
8·15 광복	모스크바 3국 외상 회의	제1차 미·소 공동 위원회	대한민국 정부 수립
6·25 전쟁			

- ① (가) ② (나)
- ③ (다) ④ (라)

24. (가)에 들어갈 인물로 옳은 것은? [3점]

열하를 다녀와서

이름 : ○○○

나는 지난 방학에 가족과 함께 중국의 열하(현재의 청더)에 갔다왔다. 그곳은 지금으로부터 약 230여 년 전에 (가)이 다녀갔던 곳이다. 그분은 열하를 다녀온 뒤에 「열하일기」라는 책을 남겼다. 이 책에는 상업을 권장하고, 새로운 문물을 받아들이자는 그분의 생각이 담겨 있다.

- ① 박지원
- ② 유형원
- ③ 정약용
- ④ 홍대용

25. 다음은 조선 후기에 있었던 가상 대화이다. 가방 속에 들어 있을 물건으로 적절하지 않은 것은? [3점]

이 가방 안에 들어 있는 물건을 보면 서양의 발달된 과학 기술을 알게 될 것입니다.

직접 보게 되다니 정말 기대됩니다.

- ① 자명종
- ② 천리경
- ③ 곤여만국전도
- ④ 훈일강리역대국도지도

26. 다음 자료의 유적에 대한 설명으로 옳지 않은 것은? [2점]

역사신문
○○○○년 ○○월 ○○일



화성, 임금의 꿈이 실현되다!
임금의 오랜 꿈이었던 화성이 공사 시작 2년 7개월 만에 완공되었다. 이 성은 그동안 축적된 지식과 기술이 총동원되어 건설된 성곽이다.

- ① 흥선 대원군 때 중건되었다.
- ② 오늘날의 수원에 위치해 있다.
- ③ 거중기를 이용하여 건설되었다.
- ④ 세계 문화유산으로 등록되었다.

27. (가)에 들어갈 역사적 사건으로 옳은 것은? [2점]

(가)

프랑스군 침략

정족산성 전투

양헌수 활약

문화재 약탈

- ① 병인양요
- ② 신미양요
- ③ 강화도 조약
- ④ 운요호 사건

28. 다음 인물들이 파견된 배경으로 옳은 것은? [2점]



- ① 갑신정변
- ② 을사조약 체결
- ③ 고종 황제 강제 퇴위
- ④ 대한 제국 군대 해산

29. 다음 종교의 확산에 기여한 인물을 <보기>에서 고른 것은? [2점]

새로운 종교의 전래와 박해



천주실의



전동 성당



절두산 순교지

— < 보 기 > —

ㄱ. 김대건
ㄴ. 이승훈
ㄷ. 전봉준
ㄹ. 최제우

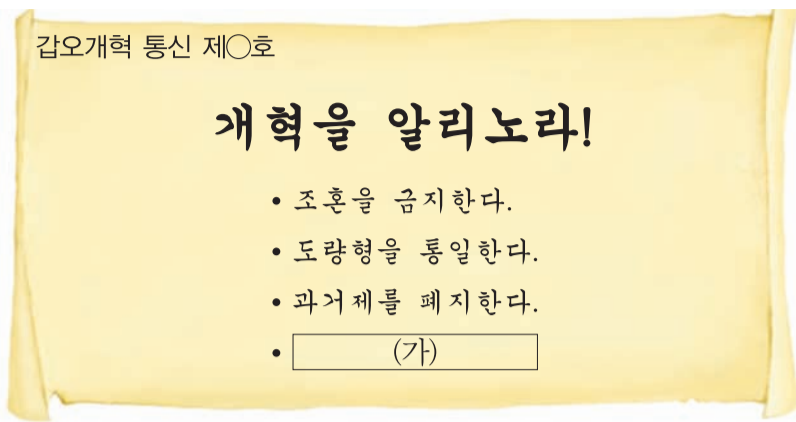
- ① ㄱ, ㄴ
- ② ㄱ, ㄷ
- ③ ㄴ, ㄹ
- ④ ㄷ, ㄹ

30. 다음은 휴대 전화로 주고받은 대화 내용이다. 이 가운데 옳지 않은 답변을 한 학생은? [3점]



- ① 갑
- ② 을
- ③ 병
- ④ 정

31. (가)에 들어갈 내용으로 옳은 것은? [2점]



- ① 별기군을 창설한다. ② 신분제를 폐지한다.
- ③ 집강소를 설치한다. ④ 척화비를 건립한다.

32. 다음은 개화기 교통 시설에 대한 자료이다. 이에 대한 설명으로 옳지 않은 것은? [3점]



- ① 경인선이 처음으로 개통되었다.
- ② 기차는 '화륜거'라고 불리기도 하였다.
- ③ 일본의 군사적 목적으로도 이용되었다.
- ④ 우리의 자본과 독자적 기술로 건설되었다.

33. 다음 홈페이지에서 기념하는 인물에 대한 설명으로 옳은 것은? [3점]



- ① 한국 광복군에 참여하였다.
- ② 국내외에서 의병 활동을 하였다.
- ③ 일본 국왕을 향해 폭탄을 던졌다.
- ④ 홍커우 공원에서 의거를 일으켰다.

34. 다음 과학 기구와 같은 기능을 가지고 있는 문화재로 옳은 것은? [2점]



- ① 수표 ② 촉우기
- ③ 풍기대 ④ 양부일구

35. 다음 골든벨 문제에 대한 옳은 답을 들고 있는 학생은? [3점]



- ① 임오군란
- ② 임꺽정의 난
- ③ 홍경래의 난
- ④ 동학 농민 운동

36. (가)에 들어갈 말로 옳은 것은?

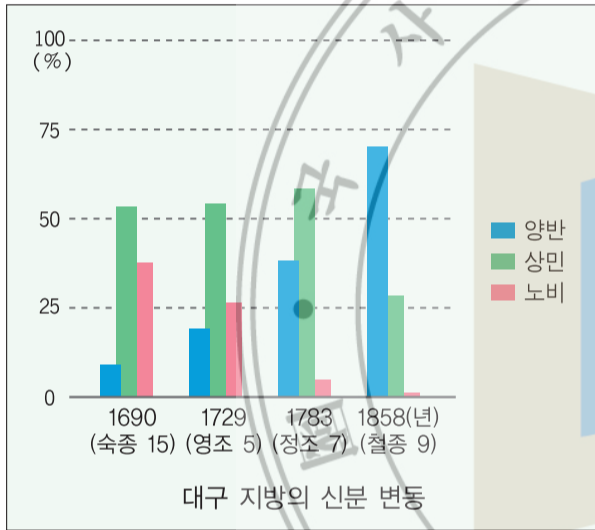
[3점]



- ① 통감부 ② 조선 총독부
- ③ 일본 제일은행 ④ 동양 척식 주식회사

37. 다음 자료에 나타난 시기의 사회 모습으로 옳지 않은 것은?

[3점]



- ① 양반이 증가하였다.
- ② 몰락한 양반도 있었다.
- ③ 신분 상승이 불가능해졌다.
- ④ 돈으로 신분을 사기도 하였다.

38. (가)에 들어갈 역사적 사건으로 옳은 것은?


[2점]



- ① 부·마 항쟁 ② 4·19 혁명
- ③ 6월 민주 항쟁 ④ 5·18 민주화 운동

39. 다음 정책이 시행되었던 시기에 대한 설명으로 옳지 않은 것은?

[3점]



- ① 도시화가 촉진되었다.
- ② 개성 공단이 건설되었다.
- ③ 국민 소득이 증가하였다.
- ④ 중화학 공업이 발달하였다.

40. 밑줄 그은 '나'에 해당하는 인물로 옳은 것은?

[2점]

나는 일본군 부대가 봉오동으로 온다는 소식을 들었다. 그들의 공격을 예상하여 미리 노인들과 여자들을 모두 대 피시키고, 대한 독립군 부대를 봉오동 북쪽 산기슭에 숨겨 두었다. 1920년 6월, 나는 신호를 내려 매복해 있던 독립군으로 하여금 일본군을 일제히 공격하게 하였다. 이에 당황한 일본군은 수많은 사상자를 남긴 채 간신히 철수하였다.

